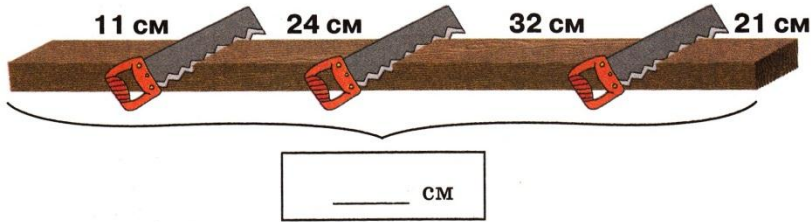


- * Впиши в пустые клеточки числа, следующие при счёте за числами

59, 40, 71, 99, 8, 89, 29

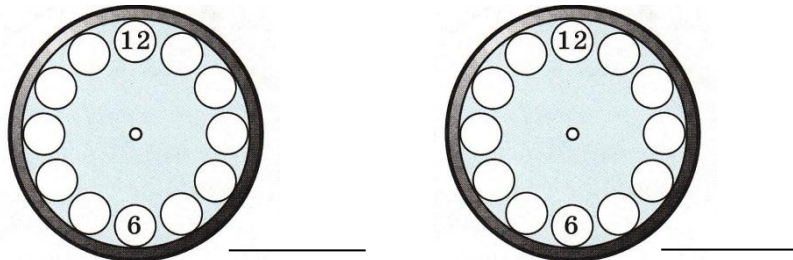
- * Брусок распилили на части. Длина этих частей указана на рисунке. Вычислите длину целого бруска.



- * Реши примеры и раскрась рисунок:



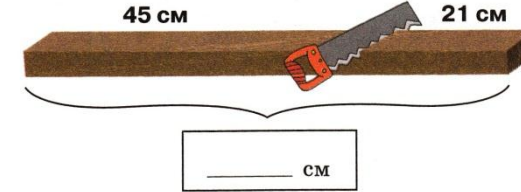
- * Выпиши все числа, обозначающие время. Дорисуй на циферблатах стрелки в соответствии с выписанными числами.



- * Впиши в пустые клеточки числа, следующие при счёте за числами

59, 40, 71, 99, 8, 89, 29

- * Брусок распилили на части. Длина этих частей указана на рисунке. Вычислите длину целого бруска.



- * Реши примеры и раскрась рисунок:



- * Выпиши все числа, обозначающие время. Дорисуй на циферблатах стрелки в соответствии с выписанными числами.

